

Sulit
77
Kemahiran Hidup Bersepadu
Pilihan 2
(Ekonomi Rumah Tangga)
Ogos 2003
1³/₄JAM

SEKOLAH MENENGAH KEBANGSAAN PUTRAJAYA 1
62250 PUTRAJAYA

PEPERIKSAAN PERCUBAAN PMR 2003

KEMAHIRAN HIDUP BERSEPADU
PILIHAN 2
(Ekonomi Rumah Tangga)
Satu jam empat puluh lima minit

JANGAN BUKA KERTAS SOALAN INI SEHINGGA DIBERITAHU.

1. Kertas soalan ini mengandungi 80 soalan. Anda dikehendaki menjawab semua soalan.
2. Tiap-tiap soalan diikuti empat cadangan jawapan yang berhuruf **A, B, C** dan **D**. Bagi tiap-tiap soalan pilih **satu** jawapan sahaja. Tandakan semua jawapan anda pada kertas jawapan objektif yang berasingan.
3. Fikir dengan teliti ketika memilih jawapan. Jika anda ingin menukar sesuatu jawapan, padamkan sehingga bersih tanda yang tidak dikehendaki itu dan hitamkan pilihan anda yang baru.
4. Anda boleh menggunakan ruangan-ruangan kosong dalam buku soalan ini untuk membuat kerja-kerja kasar tetapi markah hanya diberi kepada jawapan-jawapan yang betul pada kertas jawapan anda.
5. Jika anda tidak dapat menjawab sesuatu soalan, teruskan menjawab soalan-soalan yang berikutnya. Jangan membuang masa pada soalan yang terlalu susah. Jika anda mempunyai masa selepas menjawab soalan-soalan lain, kembalikan ke soalan yang susah itu.

Disediakan oleh:

(Pn. Jamaliah Yaakob)

Disemak oleh:

(Pn. Juniza Yusof)

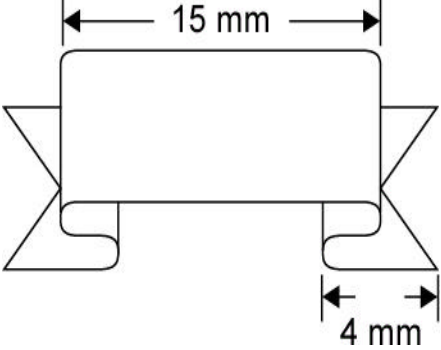
Disahkan oleh:

(Rosnah W. Ibrahim)

(Pn. Daljeet a/p Kakar Singh)

1	Apakah tujuan utama reja kayu digunakan apabila mencabut paku menggunakan tukul kuku kambing?
A	Mengelak paku daripada bengkok
B	Mengelak permukaan kayu rosak
C	Mengelak tukul kuku kambing patah
D	Mempercepatkan kerja mencabut paku

2	Alatan yang berikut yang manakah sesuai untuk membuat tanggam parit?
i	pahat
ii	gandin kayu
iii	gandin getah
iv	gergaji tangan
v	gergaji puting
A	i, ii dan v
B	i, iii dan v
C	i, ii, iii dan v
D	semua di atas

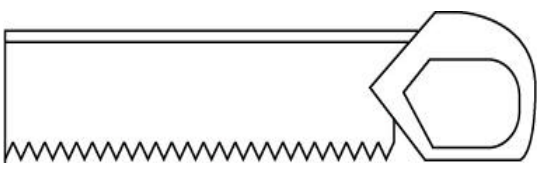
3	 <p>Rajah di atas adalah sekeping logam yang digunakan bagi membuat satu projek. Berdasarkan rajah di atas berapakah panjang logam yang digunakan?</p>
A	15 mm
B	19 mm
C	23 mm
D	8 mm

4 Jadual di bawah menunjukkan pengiraan kos untuk 40 unit rak botol. Sekiranya anda inginkan keuntungan sebanyak 40% bagi setiap unit, berapakah harga jualan seunit?

Perkara	Kos
Kos bahan	RM500.00
Kos upah	RM280.00
Kos sampingan	RM60.00

A	RM30.40
B	RM29.40
C	RM21.00
D	RM12.50

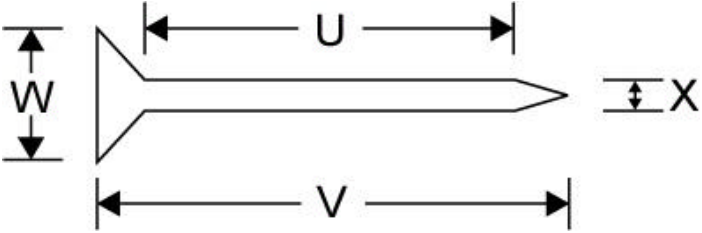
5



Yang manakah antara kerja berikut yang memerlukan penggunaan alatan tangan di atas?


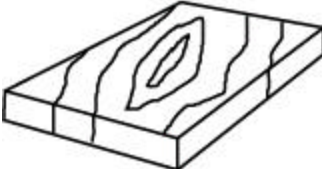


i	membelah kayu
ii	membuat tanggam parit
iii	mengerat kayu yang kecil
iv	membuat lengkungan pada kayu
A	i dan iii
B	ii dan iii
C	ii dan iv
D	ii, iii dan iv

6

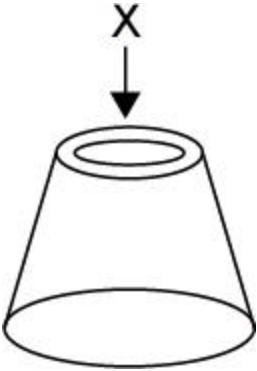
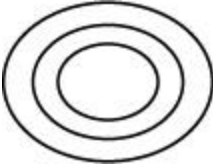
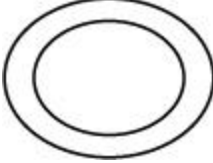
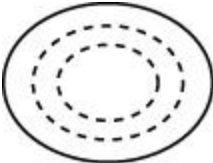
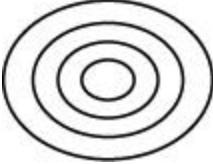


Rajah di atas adalah paku kepala rata. Panjang paku di atas adalah

A	W
B	U
C	V
D	X

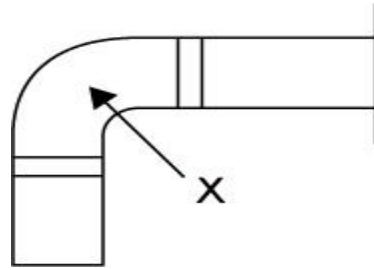
7	Antara kecatatan kayu yang berikut, yang manakah dikenali sebagai meleding?
A	
B	
C	
D	

8	Pernyataan yang berikut adalah benar mengenai apit G, kecuali
A	saiznya ditentukan oleh panjang hulunya
B	saiz yang biasa ialah di antara 6 cm dengan 30 cm
C	digunakan untuk mengapit kayu yang hendak dipotong, dipahat atau digerudi
D	digunakan bersama dengan reja kayu supaya rahang tidak meninggalkan kesan pada kayu

9	<div style="text-align: center;">  </div> <p>Pandang dari X bagi bongkah di atas ialah</p>
A	
B	
C	
D	

10	<p>Dalam sistem perpaipan domestik, paip yang menghubungkan meter air dengan tangki simpanan air dikenali sebagai</p>
A	paip agihan
B	paip limpah
C	paip perhubungan
D	paip perkhidmatan

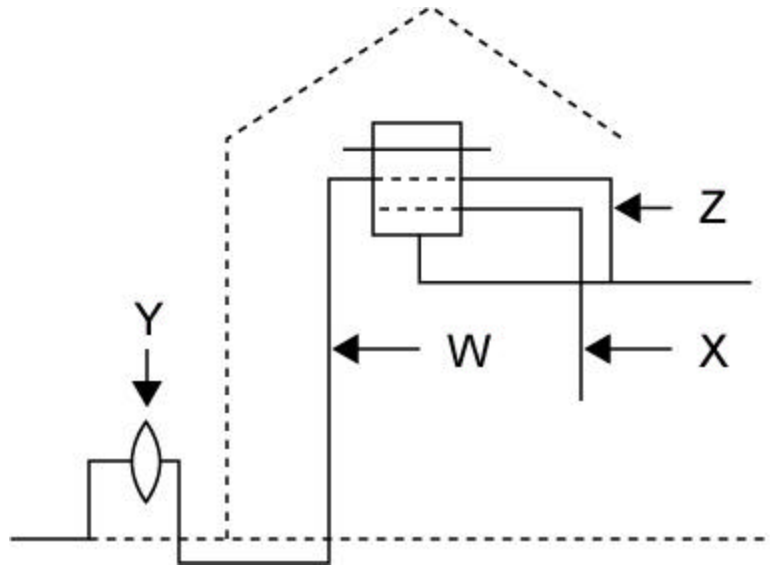
11



Merujuk rajah di atas, jenis bahan pemasangan X dinamakan

- A siku 90° sama
- B soket pengecil
- C soket penjodoh
- D Siku 90° pengecil

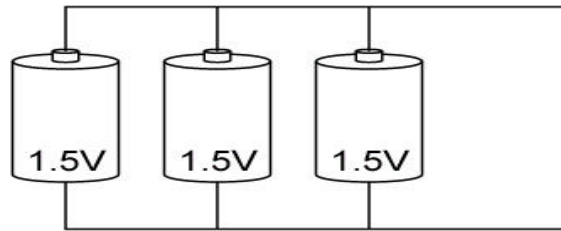
12



Rajah di atas menunjukkan system bekalan air di rumah. Paip manakah dengan betul?

- A Z – paip cuci
- B Y – paip agihan
- C X – paip perhubungan
- D W – paip perkhidmatan

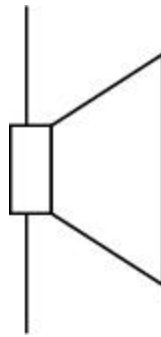
13



Rajah di atas menunjukkan 3 sel 1.5 V disambung secara

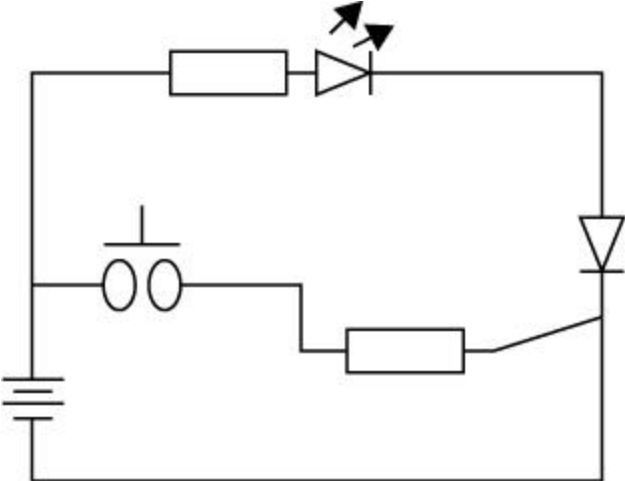
- A siri
- B selari
- C siri selari
- D selari siri



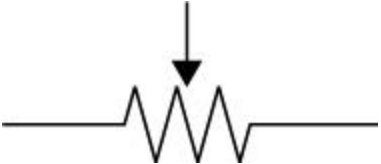
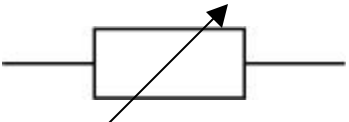
14

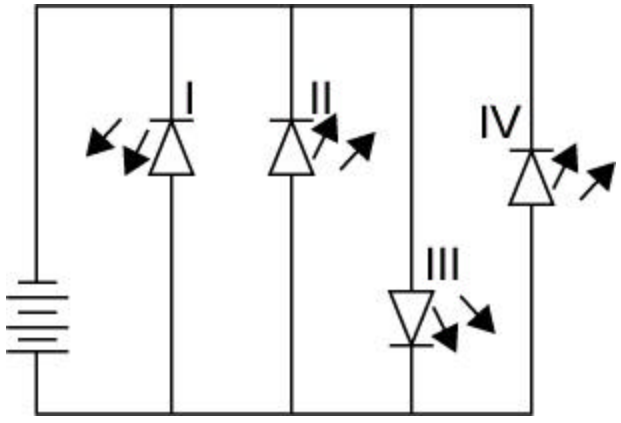


Apakah fungsi komponen yang diwakili simbol elektronik di atas?


- A Menukarkan gelombang bunyi ke gelombang elektrik
- B Mengesan kehadiran gelombang bunyi
- C Menukarkan gelombang elektrik ke gelombang bunyi
- D Membesarkan gelombang bunyi yang berkesan

15	<p>Rajah di bawah menunjukkan litar skema satu projek elektronik. Apakah yang akan berlaku apabila suis ditekan kemudian dilepaskan?</p> 
A	LED akan padam
B	LED akan berkelip-kelip
C	Led akan bernyala dan kemudian padam
D	LED akan bernyala berterusan

16	<p>Antara yang berikut manakah yang bukan symbol perintang boleh laras?</p>
A	
B	
C	
D	

17	Berdasarkan litar elektronik di bawah, LED yang manakah bernyala?
	
A	I dan II
B	I dan III
C	II dan IV
D	III dan IV

18	Antara pernyataan yang berikut, yang manakah tidak benar mengenai alat pemateri elektrik?
A	Digunakan untuk menyambung kaki komponen pada balapan bod litar
B	Digunakan untuk membuat penyambungan litar elektronik secara kekal
C	Ditentukan oleh kadaran nilai rintangan dalamnya
D	Bitnya digunakan untuk mencairkan pateri semasa memateri


19	
Rajah di atas menunjukkan sebatang perintang. Bilangan sifar ditunjukkan oleh jalur.....	
A	1
B	2
C	3
D	4

20	Antara berikut yang manakah menggunakan kabel teras bertebat PVC?
A	cerek air
B	seterika
C	pembakar roti
D	ketuhar gelombang mikro

21	<ul style="list-style-type: none"> • Digunakan pada peralatan elektronik seperti radio dan televisyen • Berfungsi meninggikan arus • Boleh bertindak sebagai suis 	
	Berdasarkan maklumat di atas, komponen elektronik yang dimaksudkan ialah	
	A	diod
	B	transistor
	C	perintang boleh laras
	D	kapasitor elektrolit

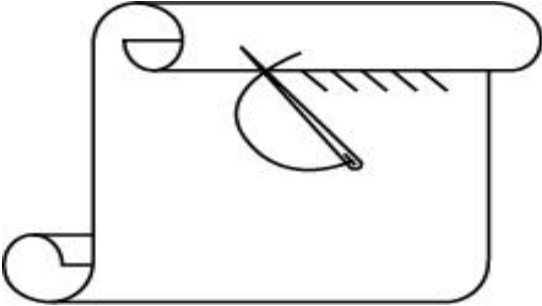
22	Pilih pernyataan yang benar mengenai verabod.	
	I	permukaan bawahnya disadur dengan tembaga
	II	balapan tembaga ini bertindak sebagai pengalir
	III	pematerian pada bod litar adalah secara kekal
	IV	kaki komponen yang berlebihan pada verabod perlu dipotong
	A	I dan II
	B	II dan III
	C	II, III dan IV
	D	I, II, III dan IV



23	Sirip-sirip penyejuk terdapat pada bahagian enjin yang berikut.....	
	I	Ekzos
	II	Bongkah enjin
	III	Kepala silinder
	IV	Takungan minyak pelincir
	A	I dan IV
	B	II dan III
	C	I, II dan III
	D	I, III dan IV



24		
	Apakah nama pengikat yang ditunjukkan di atas?	
	A	bolt
	B	stad
	C	nat pal
	D	skru tudung

25	Jenis pembersih udara yang boleh dibersihkan dengan menggunakan air sabun suam ialah
A	pembersih udara jenis foam
B	pembersih udara jenis minyak
C	pembersih udara jenis kasa dawai
D	pembersih udara jenis katrij kertas


26	Joanna tinggi dan langsing. Pakaian yang berikut sesuai untuknya kecuali ..
A	corak bunga yang besar
B	garis yang menegak
C	tekstur fabrik yang berkilau
D	potongan skirt kembang dan lengan gelembung

27	 <p>Jahitan dalam rajah di atas sesuai untuk</p>
A	Menjahit butang ketap
B	Membaiki kelim meretas
C	Membaiki kelepuk meretas
D	Memula dan mengakhiri jahitan tangan

28	Seorang yang gempal sesuai untuk memakai fabrik yang berikut
A	
B	

C	
D	

29	Mengapakah rumpai dalam medium memasu perlu dihapuskan?
A	Supaya tumbuhan kelihatan lebih baik
B	Supaya tidak menjadi pesaing kepada tumbuhan untuk mendapatkan nutrien
C	Untuk mengurangkan keperluan menyiram dan membaja
D	Untuk memperbaiki saliran dan pengudaran dalam medium memasu

30	
	Rajah di atas menunjukkan daun yang rosak akibat serangan
A	virus
B	penyakit
C	bakteria
D	serangga

31	Berapakah nisbah penyediaan medium semaian?
A	7:5:2
B	3:2:1
C	2:1:1
D	3:1:1

32	<ul style="list-style-type: none"> • Memerlukan modal yang kecil • Melibatkan kemahiran yang diwarisi • Pekerja terdiri dari ahli keluarga 	
	Berdasarkan pernyataan di atas, apakah jenis barangan yang dihasilkan oleh industri tersebut?	
	A	keropok
	B	minuman tin
	C	tekstil
D	alatan elektrik	

33	Yang berikut perlu difikirkan oleh seorang peniaga sebelum memulakan perniagaan, kecuali ...
A	bantuan perniagaan
B	sumber bekalan stok
C	cara pemasaran barangan
D	jumlah keuntungan dalam masa yang singkat

34	Antara yang berikut, manakah yang bukan merupakan kelemahan sistem barter?
A	Barang mudah rosak
B	Mewujudkan pengkhususan
C	Mengambil masa yang lama
D	Mesti ada kemahuan serentak

35	Antara pernyataan yang berikut, manakah yang merupakan peranan seorang usahawan?
I	mewujudkan barang baru
II	menambah kadar upah pekerja
III	mengubah corak hidup masyarakat
IV	menyahut cabaran kerajaan untuk memajukan negara
A	I, II dan III
B	I, II dan IV
C	I, III dan IV
D	II, III dan IV

36	Antara yang berikut yang manakah menerangkan bidang ekstraktif yang paling tepat?
A	Mengeluarkan bahan mentah daripada sumber alam
B	Mengeluarkan barang yang melibatkan barang yang diproses
C	Menjalankan kegiatan memproses bahan mentah menjadi barang siap
D	Menjalankan aktiviti perniagaan yang melibatkan projek perladangan

37	Antara yang berikut yang manakah bukan merupakan perniagaan perkhidmatan?	
	I	Bengkel kereta Ah Chong
	II	Stesen minyak Selayang
	III	Farmasi Sihat
	IV	Pusat Tuisyen Cerdik
	A	I dan II
	B	I dan IV
	C	II dan III
	D	III dan IV

38	Tujuan penubuhan MIDA adalah untuk membantu usahawan dalam	
	I	memberi khidmat nasihat kepada usahawan mengenai projek perindustrian di Malaysia
	II	menasihati kementerian dan kerajaan negeri mengenai dasar dan strategi pembangunan perindustrian
	III	mengurus permohonan untuk mendapatkan lesen, perlindungan tarif, dan pelepasan cukai import
	IV	mengurus semua pertanyaan mengenai pelaburan dalam sektor perindustrian
	A	I dan II
	B	I, III dan IV
	C	II, III dan IV
	D	I, II, III dan IV

39	Pasangan yang manakah benar mengenai jenis milikan dan liabilitinya.	
	Jenis Milikan	Liabiliti
	A	Milikan tunggal Terhad
	B	Syarikat Sendirian Berhad Tidak terhad
	C	Koperasi Terhad
	D	Syarikat Awam Berhad Tidak terhad

40	Siapakah antara berikut, dikatakan mempunyai ciri-ciri keusahawanan?	
	A	Amir membeli barang siap dan menjualnya semula
	B	George membeli barang yang banyak terdapat di pasaran
	C	Rani membeli barang lama dan mengubahsuaikannya menjadi barang baru
	D	Kris membeli barang pada harga murah dan menjualnya kepada pengguna dengan harga mahal

41	Antara yang berikut yang manakah menerangkan persatuan pengguna dengan tepat?
A	Pertubuhan sukarela yang ditubuhkan oleh pengguna untuk memperjuangkan hak dan kepentingan mereka
B	Pertubuhan yang dipertubuhkan oleh kerajaan untuk menjaga kepentingan pengguna supaya tidak ditindas oleh peniaga
C	Pertubuhan kementerian yang berfungsi untuk memberi nasihat kepada pengguna
D	Pertubuhan kerajaan yang berfungsi untuk menerbitkan majalah dan risalah mengenai maklumat kepenggunaan kepada pengguna

42	Pernyataan berikut adalah tidak benar mengenai Akaun Tunai
A	Akaun Tunai mempunyai baki kredit.
B	Penerimaan wang tunai dicatatkan di sebelah debit.
C	Akaun Tunai digunakan untuk merekod semua urusan niaga secara tunai.
D	Pembayaran wang tunai direkodkan di sebelah kredit.

43	<table style="width: 100%; border-collapse: collapse;"> <tr> <td style="width: 50%; text-align: center; border-bottom: 1px solid black;">Akaun Tunai</td> <td style="width: 50%; text-align: center; border-bottom: 1px solid black;">Akaun Kenderaan</td> </tr> <tr> <td style="text-align: center; border-right: 1px solid black; padding: 5px;">Kenderaan 25 000</td> <td style="text-align: center; padding: 5px;">Tunai 25 000</td> </tr> </table> <p>Berdasarkan catatan di atas, apakah urusan niaga yang berlaku?</p>	Akaun Tunai	Akaun Kenderaan	Kenderaan 25 000	Tunai 25 000
Akaun Tunai	Akaun Kenderaan				
Kenderaan 25 000	Tunai 25 000				
A	Menjual kenderaan lama dan dapat tunai RM 25 000				
B	Membeli kenderaan bernilai RM 25 000				
C	Membeli kenderaan menggunakan cek RM25 000				
D	Menjual kenderaan lama secara kredit				

44	Berapakah untung kasar yang diperolehi daripada maklumat di bawah.										
	<table style="width: 100%; border-collapse: collapse;"> <tr> <td style="width: 60%;">Stok awal</td> <td style="text-align: right;">RM 3 000</td> </tr> <tr> <td>Belian</td> <td style="text-align: right;">3 000</td> </tr> <tr> <td>Duti atas belian</td> <td style="text-align: right;">200</td> </tr> <tr> <td>Jualan</td> <td style="text-align: right;">8 000</td> </tr> <tr> <td>Stok akhir</td> <td style="text-align: right;">2 000</td> </tr> </table>	Stok awal	RM 3 000	Belian	3 000	Duti atas belian	200	Jualan	8 000	Stok akhir	2 000
Stok awal	RM 3 000										
Belian	3 000										
Duti atas belian	200										
Jualan	8 000										
Stok akhir	2 000										
A	RM 2 800										
B	RM 3 800										
C	RM 4 000										
D	RM 5 000										

45	Berdasarkan Imbangan Duga dibawah berapakah nilai X?		
	Imbangan Duga pada 31 Dis 2002]		
	Tunai	700	
	Bank	800	
	Sya. Boon	500	
	Belian	1300	
	Stok	350	
	Modal		2500
	Sya. Meng		X
	Jualan		800
	A	RM350	
	B	RM500	
	C	RM700	
	D	RM3700	

46	Stok akhir dicatat dalam	
	I	Akaun Perdagangan
	II	Kunci kira-kira
	III	Akaun Untung Rugi
	IV	Imbangan Duga
	A	I dan II
	B	I dan III
	C	II dan IV
	D	II, III dan IV

47	Kedai Alat tulis Keng Ann membeli buku tulis sebanyak RM 900. Catatan bergu yang betul ialah			
	A	<table style="width: 100%; border-collapse: collapse;"> <tr> <td style="width: 50%; text-align: center;"> <u>Akaun Tunai</u> Belian 900 </td> <td style="width: 50%; text-align: center;"> <u>Akaun Belian</u> Tunai 900 </td> </tr> </table>	<u>Akaun Tunai</u> Belian 900	<u>Akaun Belian</u> Tunai 900
<u>Akaun Tunai</u> Belian 900	<u>Akaun Belian</u> Tunai 900			
	B	<table style="width: 100%; border-collapse: collapse;"> <tr> <td style="width: 50%; text-align: center;"> <u>Akaun Tunai</u> Belian 900 </td> <td style="width: 50%; text-align: center;"> <u>Akaun Belian</u> Tunai 900 </td> </tr> </table>	<u>Akaun Tunai</u> Belian 900	<u>Akaun Belian</u> Tunai 900
<u>Akaun Tunai</u> Belian 900	<u>Akaun Belian</u> Tunai 900			

C	<table style="width: 100%; border-collapse: collapse;"> <tr> <td style="width: 50%; text-align: center; border-bottom: 1px solid black;">Keng Ann</td> <td style="width: 50%; text-align: center; border-bottom: 1px solid black;">Akaun Alat Tulis</td> </tr> <tr> <td style="text-align: center;">Belian 900</td> <td style="text-align: center;">Keng Ann 900</td> </tr> </table>	Keng Ann	Akaun Alat Tulis	Belian 900	Keng Ann 900
Keng Ann	Akaun Alat Tulis				
Belian 900	Keng Ann 900				
D	<table style="width: 100%; border-collapse: collapse;"> <tr> <td style="width: 50%; text-align: center; border-bottom: 1px solid black;">Keng Ann</td> <td style="width: 50%; text-align: center; border-bottom: 1px solid black;">Akaun Alat Tulis</td> </tr> <tr> <td style="text-align: center;">Belian 900</td> <td style="text-align: center;">Keng Ann 900</td> </tr> </table>	Keng Ann	Akaun Alat Tulis	Belian 900	Keng Ann 900
Keng Ann	Akaun Alat Tulis				
Belian 900	Keng Ann 900				

48	<p>Dalam Akaun Untung Rugi di bawah, terdapat kesilapan dalam catatan pendapatan dan perbelanjaan. Berapakah untung bersih selepas pembetulan di buat?</p> <p style="text-align: center;">Akaun Untung Rugi bagi tahun berakhir</p> <table style="width: 100%; border-collapse: collapse; margin-top: 10px;"> <tr> <td style="width: 50%; border-right: 1px solid black;"> <table style="width: 100%; border-collapse: collapse;"> <tr> <td style="width: 80%;">Gaji</td> <td style="width: 20%; text-align: right;">1000</td> </tr> <tr> <td>Diskaun di terima</td> <td></td> </tr> <tr> <td>Kadar bayaran</td> <td></td> </tr> <tr> <td>Komisen diberi</td> <td></td> </tr> </table> </td> <td style="width: 50%;"> <table style="width: 100%; border-collapse: collapse;"> <tr> <td style="width: 80%;">Untung kasar</td> <td style="width: 20%; text-align: right;">3500</td> </tr> <tr> <td>Angkutan keluar</td> <td style="text-align: right;">350</td> </tr> </table> </td> </tr> </table>			<table style="width: 100%; border-collapse: collapse;"> <tr> <td style="width: 80%;">Gaji</td> <td style="width: 20%; text-align: right;">1000</td> </tr> <tr> <td>Diskaun di terima</td> <td></td> </tr> <tr> <td>Kadar bayaran</td> <td></td> </tr> <tr> <td>Komisen diberi</td> <td></td> </tr> </table>	Gaji	1000	Diskaun di terima		Kadar bayaran		Komisen diberi		<table style="width: 100%; border-collapse: collapse;"> <tr> <td style="width: 80%;">Untung kasar</td> <td style="width: 20%; text-align: right;">3500</td> </tr> <tr> <td>Angkutan keluar</td> <td style="text-align: right;">350</td> </tr> </table>	Untung kasar	3500	Angkutan keluar	350
<table style="width: 100%; border-collapse: collapse;"> <tr> <td style="width: 80%;">Gaji</td> <td style="width: 20%; text-align: right;">1000</td> </tr> <tr> <td>Diskaun di terima</td> <td></td> </tr> <tr> <td>Kadar bayaran</td> <td></td> </tr> <tr> <td>Komisen diberi</td> <td></td> </tr> </table>	Gaji	1000	Diskaun di terima		Kadar bayaran		Komisen diberi		<table style="width: 100%; border-collapse: collapse;"> <tr> <td style="width: 80%;">Untung kasar</td> <td style="width: 20%; text-align: right;">3500</td> </tr> <tr> <td>Angkutan keluar</td> <td style="text-align: right;">350</td> </tr> </table>	Untung kasar	3500	Angkutan keluar	350				
Gaji	1000																
Diskaun di terima																	
Kadar bayaran																	
Komisen diberi																	
Untung kasar	3500																
Angkutan keluar	350																
A	RM 1850																
B	RM 1950																
C	RM 3800																
D	RM 4500																

Soalan 49 dan 50 berdasarkan Akaun Perdagangan di bawah.

Akaun Perdagangan bagi tahun berakhir

Stok awal	5000	
Belian	13000	Jualan 19000
Kos barang dijual	X	
- Stok akhir	5000	
Kos jualan	13000	
Untung kasar	Y	

49	Berapakah nilai X?	
A	RM 13 000	
B	RM 18 000	
C	RM 26 000	
D	RM 19 000	

50	Berapakah nilai Y?
A	RM 6 000
B	RM 5 000
C	RM 13 000
D	RM 19 000

51	Akaun Bank		
	<table style="width: 100%; border-collapse: collapse;"> <tr> <td style="width: 50%; border-right: 1px solid black; padding: 5px;"> April 1 Baki b/b 1000 10 Baki h/b 2100 </td> <td style="width: 50%; padding: 5px;"> April 3 Belian 400 5 Sewa 2000 10 Perabot 700 </td> </tr> </table>	April 1 Baki b/b 1000 10 Baki h/b 2100	April 3 Belian 400 5 Sewa 2000 10 Perabot 700
April 1 Baki b/b 1000 10 Baki h/b 2100	April 3 Belian 400 5 Sewa 2000 10 Perabot 700		
	Merujuk kepada Akaun Bank di atas, penyataan yang benar ialah		
A	peniaga telah membuat overdraf		
B	peniaga mempunyai baki dalam bank sebanyak RM2100		
C	peniaga mempunyai baki simpanan tetap sebanyak RM 1000		
D	peniaga telah mengeluarkan wang simpanan sebanyak RM 2100		

52	Apakah halangan-halangan komunikasi ?
I	Jarak penerima dan penyampai mesej yang jauh
II	Penggunaan bahasa yang tidak jelas
III	Penyampai dan penerima mesej dalam keadaan berprasangka
IV	Salah faham tanda komunikasi bukan lisan
A	I dan II
B	I, II dan IV
C	I, III dan IV
D	I, II, III dan IV

53	Antara yang berikut yang manakah bukan sumbangan ahli komuniti secara kolektif?
A	Membantu orang tua melintas jalan raya.
B	Bergotong royong membersihkan longkang
C	Memungut derma untuk mangsa banjir
D	Mengadakan kelas tuisyen secara sukarela

54	Manakah antara berikut tindakan tegas?
A	Amri bersikap agresif
B	Lucy melaksanakan tindakannya walaupun hal ini mungkin menyinggung perasaan orang lain.
C	Mahmud tetap dengan keputusannya tanpa dipengaruhi orang lain.
D	Ainin sanggup menyakiti orang lain demi mencapai matlamatnya.

55	Aspek dalam diri yang anda ketahui tetapi tidak diketahui oleh orang lain	
	Berdasarkan pernyataan di atas contoh yang manakah betul?	
	A	Amit ingin menjadi seorang pereka fesyen
	B	Susan akan menghadapi peperiksaan pada akhir tahun ini
	C	Zubaidah selalu dipilih mewakili sekolah dalam pertandingan pidato
D	Siti sering menyanyi kerana ia berminat dalam bidang itu	

56	Radi ditawarkan ke UPM dan UTM. Apakah yang harus dilakukannya?	
A	Memasuki UPM kerana berdekatan dengan rumahnya.	
B	Memasuki UTM kerana disuruh oleh keluarganya	
C	Meminta nasihat dari rakan karib	
D	Menyenaraikan kebaikan dan keburukkan sebelum membuat pilihan.	

57	Shan ialah seorang budak yang berimej sendiri positif. Hal ini bermakna	
A	dia yakin pada dirinya	
B	dia tidak takut dimarah oleh ibu bapanya	
C	dia peka akan keperluan orang lain	
D	dia selalu mengambil berat tentang masalah orang lain	





58	Antara sikap yang berikut, manakah yang tidak membantu membina pemikiran kreatif?	
A	Befikiran terbuka	
B	Mempunyai sikap ingin tahu	
C	Tidak mudah putus asa	
D	Patuh dan hanya mengikut arahan	

59	Mental-emosi bermaksud.....	
A	daya fikiran negetif seseorang	
B	pemikiran dan perasaan seseorang	
C	kegemaran seseorang	
D	membina hubungan mesra	


60	Ibu dan ayah Rina telah berpisah. Dia tinggal dengan ibu dan neneknya di kampung, keluarga Rina ialah keluarga	
A	luas	
B	kampung	
C	nukleus	
D	induk tinggal	

61	Apakah fungsi Retinol (Vitamin A)?
A	mengurangkan masalah keracunan
B	membantu penglihatan yang baik
C	mengelakkan penyakit beri-beri
D	mencegah sembelit

62	Antara yang berikut manakah telah melalui proses teknologi?
I	puri tamato
II	keju
III	coklat
IV	sayur sawi
A	I dan II
B	II dan IV
C	I, II dan III
D	Semua di atas

63	Diantara berikut yang manakah digunakan untuk menghidang minuman air kopi?
A	
B	
C	
D	

64	Untuk sajian melayu, di manakah letaknya gelas minuman?
A	di kiri pinggan makan
B	di kanan pinggan makan
C	di tengah meja
D	di tepi gubahan bunga

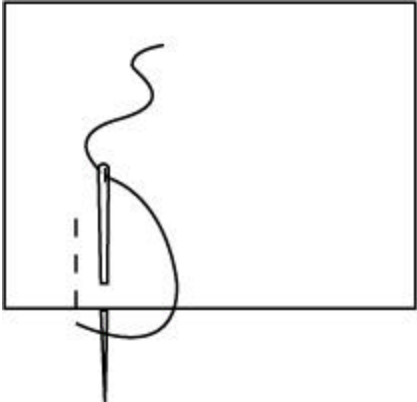
65	Apakah masakan yang boleh dimasak dengan menggunakan alatan dalam rajah di bawah?
	
I	mufin
II	capati
III	nasi lemak
IV	roti savouri
A	I dan II
B	I dan III
C	II dan IV
D	III dan IV

66	Antara berikut, yang manakah sesuai untuk sajian minuman pagi?
I	teh susu dan roti sandwich
II	kopi susu dan nasi lemak
III	milo panas dan sardin gulung
IV	nasi putih dan jus limau
A	I, II dan III
B	I, II dan IV
C	I, III dan IV
D	II, III dan IV

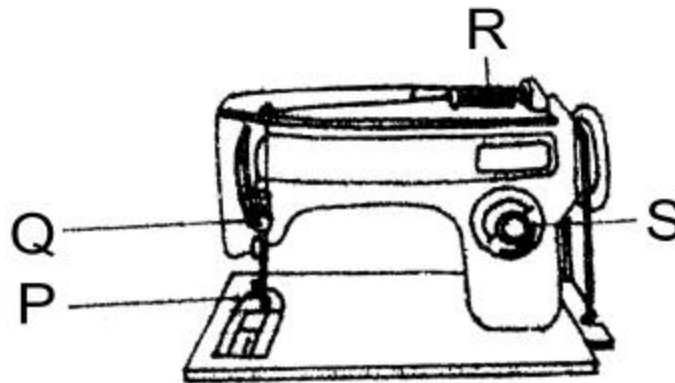
67	Semasa menyusun jadual kerja memasak perkara yang diambil kira adalah seperti berikut, kecuali
A	makanan yang mahal untuk disajikan
B	penggunaan kemudahan alatan
C	mengetahui keperluan diet seseorang
D	bilangan orang yang akan makan

68	Antara berikut, yang manakah terdapat pada label barangan ?
I	jenama
II	tarikh luput
III	cara menjaga
IV	isi kandungan
A	I dan II
B	II dan III
C	I, II dan IV
D	Semua di atas

69	Fabrik kapas mempunyai ciri-ciri berikut kecuali
A	tahan bahan peluntur
B	menyerap lembapan
C	tidak tahan direbus
D	mudah renyuk dan mengecut

70	Apakah jahitan yang ditunjukkan dalam rajah di bawah?
	
A	Jahitan sembat
B	Jahitan lilit ubi
C	Jahitan lilit kemas
D	Jahit insang pari





Soalan 71 dan 72 adalah berdasarkan rajah di bawah



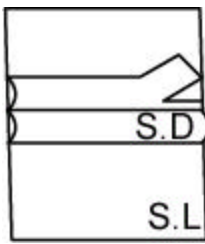
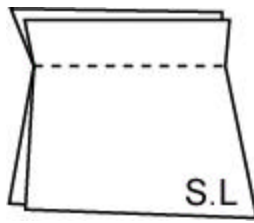
71	Merujuk kepada mesin jahit dalam rajah di atas, apakah nama dan kegunaan yang bertanda S?		
		Alatan	Kegunaan
	A	Pelaras jahitan	Melaras dan menentukan saiz jahitan
	B	Spring pemegang benang	Mengawal pergerakan benang apabila mesin bergerak
	C	Tuas angkat	Menaik dan menurunkan tiang penekan jahitan
	D	Roda imbang	Memulakan dan memberhentikan jahitan

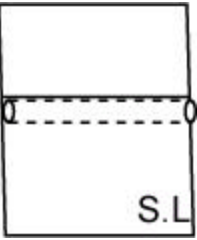
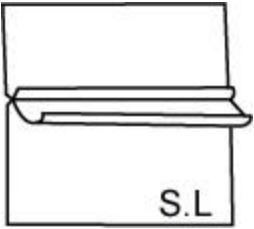
72	Bahagian yang bertanda Q ialah		
	A	roda imbang	
	B	gigi penolak	
	C	pemusing gelendung	
	D	ceper pemegang benang	





73	Dalam rajah di bawah, yang manakah merupakan tanda pola garisan pemadam?		
	A	I	
	B	II	
	C	III	
	D	IV	

74	Antara berikut, yang manakah merupakan alatan-alatan yang sesuai untuk memindahkan tanda pola dari kertas pola ke fabrik?	
	 I	 III
	 II	 IV
	A	I dan II
	B	II dan III
	C	I dan III
	D	III dan IV

75	Cara tampal hias biasanya digunakan sebagai hiasan untuk	
	I	pakaian kanak-kanak
	II	alas dulang
	III	kusyen tabur
	IV	langsir
	A	I dan II
	B	II, III dan IV
	C	I, II dan III
	D	Semua di atas

76	Susunan yang manakah mengikut aturan yang betul bagi menjahit kelim papan mesin?	
	 I	 III

		
	II	IV
	A	I, II, III dan IV
	B	II, I, III dan IV
	C	III, I, IV dan II
	D	IV, III, II dan I

77	Antara berikut, simbol yang manakah menunjukkan meluntur pada Label Jagaan Tekstil Antarabangsa?	
A		
B		
C		
D		

78	Bilik tidur Tina kecil dan sempit. Apakah langkah yang sepatutnya diambil oleh Tina untuk memberi gambaran bilik itu lebih luas?	
	I	Catkan dinding dengan warna yang lembut dan terang
	II	Gunakan langsir becorak kecil
	III	Gantungkan sebuah gambar potret di dinding
	IV	Elakkan daripada menghias bilik

	A	I dan II
	B	I dan IV
	C	II dan III
	D	III dan IV

79	<div style="border: 1px solid black; padding: 5px; margin: 5px;"> Lap dengan kain pengesat lembut yang telah diperah di dalam air suam bersabun yang bercampur dengan sedikit gasolin. </div>	
	Huraian di atas adalah mengenai cara membersihkan	
	A	kayu bercat
	B	kayu bergilap
	C	kayu bervarnis
	D	permukaan formika

80	Lantai daripada jenis terazo sesuai untuk ruang seperti berikut kecuali	
	A	bilik mandi
	B	bilik istirahat
	C	bilik tidur
	D	bilik makan

KERTAS SOALAN TAMAT

JAWAPAN

1	B	21	B	41	A	61	B
2	A	22	D	42	A	62	B
3	C	23	B	43	B	63	D
4	B	24	B	44	B	64	B
5	B	25	A	45	A	65	C
6	C	26	B	46	A	66	D
7	A	27	C	47	B	67	D
8	A	28	C	48	B	68	B
9	A	29	B	49	B	69	C
10	D	30	D	50	A	70	C
11	A	31	B	51	A	71	A
12	D	32	A	52	D	72	D
13	B	33	D	53	A	73	B
14	C	34	B	54	C	74	B
15	C	35	C	55	A	75	D
16	B	36	A	56	D	76	C
17	C	37	C	57	A	77	C
18	C	38	D	58	D	78	A
19	C	39	C	59	B	79	C
20	D	40	C	60	A	80	A